

**Проверочная работа
по ИСТОРИИ****6 класс****Образец****Инструкция по выполнению работы**

На выполнение проверочной работы по истории отводится один урок (не более 45 минут). Работа включает в себя 8 заданий по истории России с древнейших времён до начала XVI в., истории зарубежных стран (история Средних веков) и 1 задание, связанное с памятью о Великой Отечественной войне.

Ответы на задания запишите в поля ответов в тексте работы. В случае записи неверного ответа зачеркните его и запишите рядом новый.

При выполнении работы не разрешается пользоваться учебниками, рабочими тетрадями, справочным материалом.

При необходимости можно пользоваться черновиком. Записи в черновике проверяться и оцениваться не будут.

Советуем выполнять задания в том порядке, в котором они даны. В целях экономии времени пропускайте задание, которое не удаётся выполнить сразу, и переходите к следующему. Если после выполнения всей работы у Вас останется время, то Вы сможете вернуться к пропущенным заданиям.

Желаем успеха!*Таблица для внесения баллов участника*

Номер задания	1	2	3	4	5	6	7	8	9	Сумма баллов	Отметка за работу
Баллы											

Прочтите перечень из четырёх событий (процессов) и выполните задания, относящиеся к этому перечню.

Перечень событий (процессов)

А) Столетняя война

Б) образование государства Русь

В) монгольское нашествие на Русь в XIII в.

Г) борьба Руси против монгольского владычества в XIV в.

1

Каждая из иллюстраций, приведённых ниже, относится к одному из указанных в перечне событий (процессов). Установите соответствие между событиями (процессами) и иллюстрациями: к каждому событию (процессу) подберите относящуюся к нему иллюстрацию.

1)



2)



3)



4)



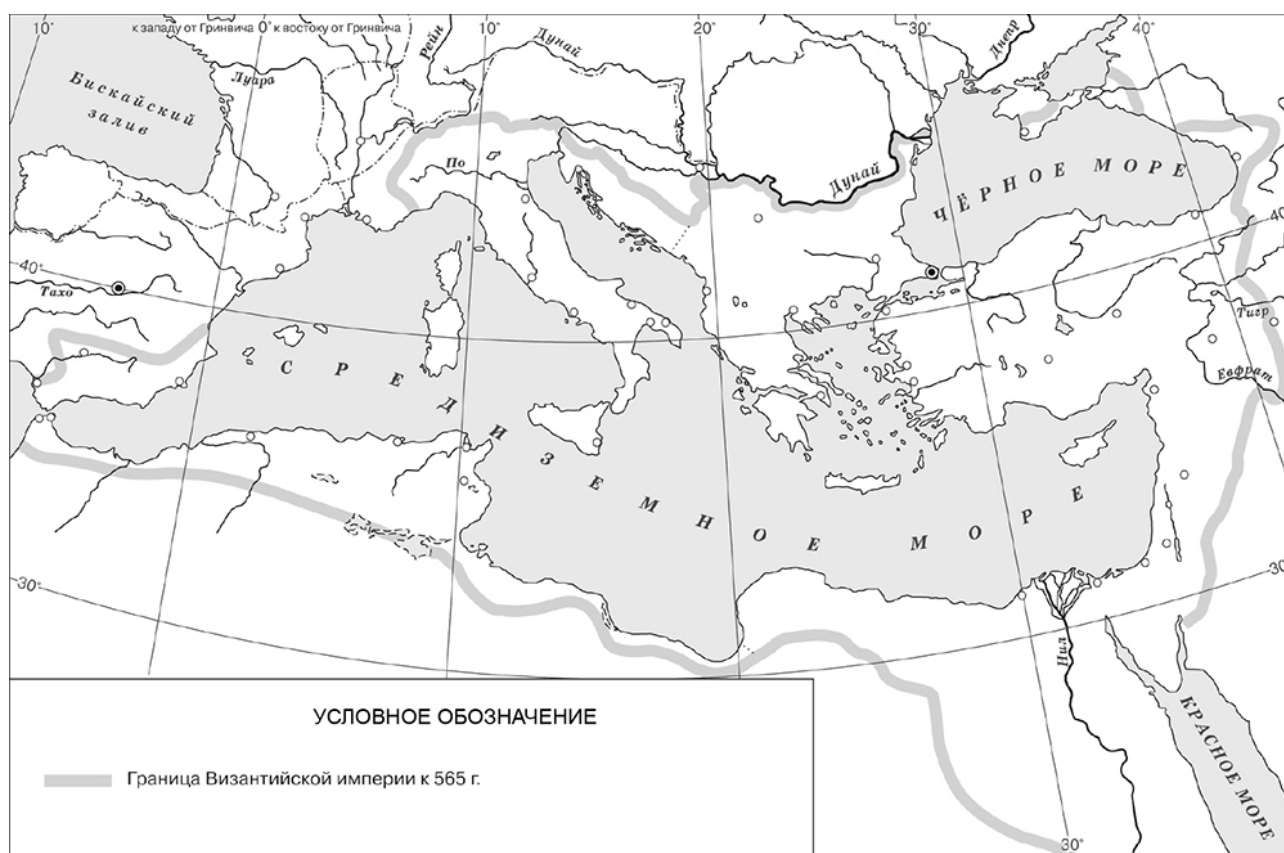
Запишите в таблицу выбранные цифры под соответствующими буквами.



Ответ:

А	Б	В	Г

Рассмотрите карту и выполните задания 2, 3.



2

Назовите византийского императора, к концу правления которого установилась отмеченная на схеме граница государства.

Ответ: _____.

3

Подпишите на карте город Константинополь и район расселения славян при императоре, к концу правления которого установилась отмеченная на схеме граница.

Прочтите отрывок из исторического источника и выполните задания 4, 5.

Перечень событий (процессов)

А) Столетняя война

Б) образование государства Русь

В) монгольское нашествие на Русь в XIII в.

Г) борьба Руси против монгольского владычества в XIV в.

«И один из вельмож рязанских по имени Евпатий Коловрат был в то время в Чернигове вместе с князем Ингварем Ингоровичем... И уехал из Чернигова с малою дружиною, и мчался быстро. И приехал в землю Рязанскую, и увидел её опустошённой: грады разорены, церкви сожжены, люди убиты... Евпатий закричал в горести души своей и разгораясь сердцем. И собрал небольшую дружину – тысячу семьсот человек, которые Богом сохранены были вне города. И помчались вслед за царём [вражеским], и едва смогли догнать его в Суздальской земле. И внезапно напали на отдыхавшее войско вражеское...»

4

Определите, к какому из данных событий (процессов) относится данный отрывок. В ответе напишите букву, которой обозначено это событие (процесс).

Ответ:

5

Где согласно данному отрывку находился Евпатий Коловрат во время разорения врагами Рязанской земли? Какова согласно данному отрывку численность дружины, которую сумел собрать Евпатий Коловрат?

Ответ: _____

Г) борьба Руси против монгольского владычества в XIV в.

6

Ответ:

7

Ответ:



CIBER:

Выбранное событие (процесс):	(укажите букву в перечне).
------------------------------	----------------------------


7

Ответ:

[illegible]

Рассмотрите изображения.


1)



2)



3)



4)



8

На каких двух изображениях представлены памятники культуры России, а на каких – памятники культуры зарубежных стран? Запишите в таблицу порядковые номера соответствующих изображений.

Ответ:

Памятники культуры России		Памятники культуры зарубежных стран	

9

Рассмотрите изображение и выполните задание.



Укажите название государственного праздника, на котором была сделана данная фотография. Объясните, почему в этот день граждане России испытывают «радость со слезами на глазах».

Ответ: _____

5

Где согласно данному отрывку находился Евпатий Коловрат во время разорения врагами Рязанской земли? Какова согласно данному отрывку численность дружины, которую сумел собрать Евпатий Коловрат?

Содержание верного ответа и указания по оцениванию (допускаются иные формулировки ответа, не искажающие его смысла)	Баллы
Правильный ответ должен содержать следующие <u>элементы</u> : 1) <u>ответ на первый вопрос</u> : в Чернигове; 2) <u>ответ на второй вопрос</u> : тысяча семьсот человек	
Правильно даны ответы на два вопроса	2
Правильно дан ответ на один вопрос	1
Ответ неправильный	0
<i>Максимальный балл</i>	2

6

С каким из данных событий (процессов) связано слово «варяги»? Запишите букву, которой обозначено данное событие (процесс).
Объясните смысл слова «варяги».

Содержание верного ответа и указания по оцениванию (допускаются иные формулировки ответа, не искажающие его смысла)	Баллы
Правильный ответ должен содержать следующие <u>элементы</u> : 1) <u>буква, которой обозначено данное событие (процесс)</u> , – Б; 2) <u>объяснение смысла слова «варяги»</u> , например: название выходцев из Балтийского региона в древнерусских источниках, наёмные воины русских князей в IX–XI вв. и купцы, торговавшие на пути «из варяг в греки». (Объяснение смысла слова может быть дано в иных, близких по смыслу формулировках.)	
Правильно указана буква и объяснён смысл слова «варяги»	3
Правильно указана буква, объяснение содержит неточность(-и), существенно не искажающую(-ие) смысла слова «варяги». ИЛИ Правильно указана буква, объяснение содержит не основные, а только второстепенные (несущественные) признаки, не в полной мере раскрывающие смысл слова «варяги»	2
Правильно указана только буква	1
Буква указана неправильно / не указана независимо от наличия объяснения смысла слова. ИЛИ Приведены рассуждения общего характера, не соответствующие требованию задания. ИЛИ Ответ неправильный	0
<i>Максимальный балл</i>	3

Выбранное событие (процесс): (укажите букву в перечне).

7

Используя знание исторических фактов, объясните, почему выбранное Вами событие (процесс) имело большое значение (важные последствия) в истории нашей страны и/или истории зарубежных стран.

Содержание верного ответа и указания по оцениванию (допускаются иные формулировки ответа, не искажающие его смысла)	Баллы
<p>В ответе должно быть дано <u>объяснение</u>, например:</p> <ul style="list-style-type: none"> – в тяжелейшей Столетней войне французский народ отстоял свою страну от завоевателей. Война способствовала росту национального самосознания французов. Этим были заложены основы сильного европейского государства – Франции (А); – образование государства Русь имело важное историческое значение для восточных славян. Оно создавало благоприятные условия для развития земледелия, ремёсел, внешней торговли. Благодаря образованию государства начали формироваться древнерусская культура, единая идеологическая система общества. Начала складываться единая древнерусская народность – основа трёх восточнославянских народов: русского, украинского и белорусского (Б); – несмотря на героическое сопротивление русского народа, Русь была разорена монголами. Восстановление экономики страны затянулось на несколько десятилетий. Но ожесточённая борьба русского народа ослабила силы захватчиков, и они не смогли покорить всю Европу (В); – в XIV в. в ходе борьбы с ордынским владычеством русский народ осознал, что единственным способом избавления от этого владычества является объединение всех русских земель и их совместная борьба под единым руководством. На роль руководящей силы в этой борьбе всё явственнее претендовала Москва. Таким образом, Москва укрепляла свои позиции в Северо-Восточной Руси (Г). <p>Могут быть даны иные объяснения</p>	
Дано объяснение значимости выбранного события (процесса) с опорой на исторические факты	2
Объяснение значимости выбранного события (процесса) содержит неточность(-и), существенно не искажающую(-ие) ответа. ИЛИ Дано неполное объяснение значимости выбранного события (процесса), отражающее только его второстепенные последствия для истории нашей страны и/или истории зарубежных стран	1
Объяснение значимости выбранного события (процесса) сформулировано в общей форме или на уровне обыденных представлений, без привлечения исторических фактов. ИЛИ Объяснение значимости выбранного события (процесса) не дано. ИЛИ Ответ неправильный	0
Максимальный балл	2

9

Рассмотрите изображение и выполните задание.



Укажите название государственного праздника, на котором была сделана данная фотография. Объясните, почему в этот день граждане России испытывают «радость со слезами на глазах».

Содержание верного ответа и указания по оцениванию (допускаются иные формулировки ответа, не искажающие его смысла)	Баллы
Правильный ответ должен содержать следующие элементы: 1) <u>название государственного праздника</u> – День Победы; 2) <u>объяснение</u> , например: победа над гитлеровской Германией была добыта ценой огромных потерь, которые коснулись каждой семьи. Поэтому в этот день граждане России одновременно празднуют победу в Великой Отечественной войне и скорбят о погибших в годы этой войны. (Объяснение может быть дано в иных, близких по смыслу формулировках.)	
Правильно указано название государственного праздника и приведено объяснение	3
Правильно указано название государственного праздника, объяснение содержит неточность(-и), существенно не искажающую(-ие) смысла ответа. ИЛИ Правильно указано название государственного праздника, объяснение содержит не основные, а только второстепенные (несущественные) связи, не в полной мере раскрывающие суть ответа на задание	2
Правильно указано только название праздника	1
Название праздника указано неправильно / не указано независимо от наличия/отсутствия объяснения. ИЛИ Приведены рассуждения общего характера, не соответствующие требованию задания	0
<i>Максимальный балл</i>	3

Система оценивания выполнения всей работы

Максимальный первичный балл за выполнение работы – 17.

Рекомендации по переводу первичных баллов в отметки по пятибалльной шкале

Отметка по пятибалльной шкале	«2»	«3»	«4»	«5»
Первичные баллы	0–4	5–8	9–13	14–17